

Lampiran 14

Tabel 5. Kartu *Make A Match*

2. Siklus II

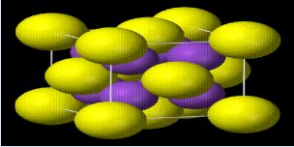
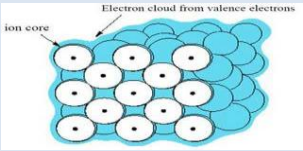
a. Pertemuan Pertama

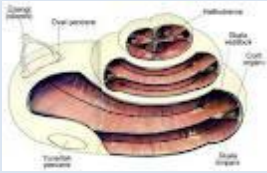

Kartu Soal	Kartu Jawaban
 <p>Ditelingaku terdapat suatu cairan. Dibagian telinga manakah aku?</p>	<p>Telinga Dalam</p>
 <p>Aku mengandung sel-sel saraf dan berisi cairan. Siapakah aku?</p>	<p>KOKLEA</p>

Kartu Soal	Kartu Jawaban
 <p data-bbox="408 573 715 674">Aku koklea. Siapa nama lain ku?</p>	<p data-bbox="943 423 1182 483">RUMAH</p> <p data-bbox="1086 562 1267 622">SIPUT</p>
 <p data-bbox="400 1122 724 1272">Aku sama-sama sebagai cairan. Tetapi aku memiliki perbedaan. Dimanakah perbedaanku?</p>	<p data-bbox="951 987 1267 1048">Kandungan</p> <p data-bbox="1011 1122 1206 1182">Ionnya</p>

Kartu Soal	Kartu Jawaban
<div data-bbox="399 369 699 495" data-label="Chemical-Block"> </div> <p data-bbox="395 528 727 689"> Aku adalah suatu atom atau kumpulan atom yang bermuatan listrik. Siapakah aku? </p>	<div data-bbox="1013 436 1204 526" data-label="Text"> <p>ION</p> </div>
<div data-bbox="399 936 715 1070" data-label="Chemical-Block"> </div> <p data-bbox="395 1126 678 1279"> Ion terdiri dari 2 jenis. Apa sajakah aku? </p>	<div data-bbox="941 974 1133 1030" data-label="Text"> <p>ANION</p> </div> <div data-bbox="1037 1097 1260 1153" data-label="Text"> <p>KATION</p> </div>

Kartu Soal	Kartu Jawaban
<div data-bbox="397 367 710 504" data-label="Diagram"> </div> <p data-bbox="395 555 727 683">Aku termasuk ion yang bermuatan negatif. Ayo tebak, siapa aku?</p>	<div data-bbox="954 416 1248 528" data-label="Text"> <h1>ANION</h1> </div>
<div data-bbox="397 931 710 1066" data-label="Image"> </div> <p data-bbox="395 1104 727 1243">Aku adalah anion. Kapan aku akan terbentuk?</p>	<p data-bbox="927 1003 1273 1256">Jika suatu atom non logam menangkap elektron</p>

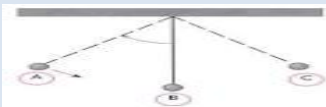
Kartu Soal	Kartu Jawaban
 <p data-bbox="392 546 727 674">Aku termasuk ion yang bermuatan POSITIF. Ayo tebak, siapa aku?</p>	<p data-bbox="976 506 1241 566">KATION</p>
 <p data-bbox="405 1111 724 1238">Aku anion yang akan terbentuk apabila suatu atom melepas elektron. Termasuk atom apakah aku?</p>	<p data-bbox="944 947 1121 1003">ATOM</p> <p data-bbox="1042 1167 1257 1223">LOGAM</p>

Kartu Soal	Kartu Jawaban
 <p data-bbox="403 577 715 689">Aku cairan yang terdapat di dalam rumah siput. Ayo tebak cairan apakah aku?</p>	<p data-bbox="975 383 1238 633">ENDOLIMFE & PERILIMFE</p>
 <p data-bbox="395 1122 724 1279">Aku cairan yang memiliki ion natrium (Na^+) sangat rendah, tetapi memiliki kandungan kation kalium (K^+) jauh lebih tinggi. Siapakah aku?</p>	<p data-bbox="967 1106 1254 1171">ENDOLIMFE</p>

Kartu Soal	Kartu Jawaban
<div data-bbox="400 371 711 510" data-label="Chemical-Block"> </div> <p data-bbox="395 546 724 696">Aku cairan yang memiliki ion natrium (Na^+) yang sangat tinggi. Siapakah aku?</p>	<div data-bbox="951 517 1270 573" data-label="Text"> <p>PERILIMFE</p> </div>
<div data-bbox="456 936 676 1070" data-label="Image"> </div> <p data-bbox="395 1099 724 1238">Jika aku mengalami gangguan pada endolimfe. Maka aku akan menyebabkan apa?</p>	<div data-bbox="954 947 1270 1218" data-label="Text"> <p>Gerakan Tersentak-sentak dan Mabuk Darat</p> </div>

Kartu Soal	Kartu Jawaban
 <p>Aku termasuk cairan endolimfe dan perilimfe. Tetapi aku memiliki perbedaan dalam kandungan ion. Terdapat di cairan manakah ion yang paling banyak?</p>	<p>ENDOLIMFE</p>
 <p>Aku memiliki kandungan kation kalium (K^+). Bila atom kalium melepas satu elektron. Maka aku akan terbentuk ion kalium. Bermuatan apakah aku?</p>	<p>1 POSITIF</p>

b. Pertemuan Kedua

Kartu Soal	Kartu Jawaban
 <p>Aku merupakan satu kali getaran, ketika benda ku bergerak urutan dari titik A terus kemanakah aku?</p>	<p>Dari titik A ke titik B ke titik C kembali ke titik B dan terakhir ke titik A</p>

Kartu Soal	Kartu Jawaban
<div data-bbox="400 367 727 533" data-label="Image"> </div> <p data-bbox="400 566 727 689">Aku merupakan gerakan ombak air laut. Sering dinamakan apakah aku?</p>	<p data-bbox="954 517 1270 568">GELOMBANG</p>
<div data-bbox="400 936 695 1061" data-label="Image"> </div> <p data-bbox="400 1095 727 1128">Perhatikan gambar di atas!</p> <p data-bbox="400 1162 727 1285">Aku adalah rapatan pada gelombang. Apakah rapatan itu?</p>	<p data-bbox="943 943 1270 1155">Daerah-daerah dimana kumparan-kumparan mendekat selama sesaat</p>


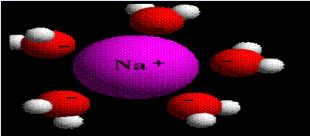
Kartu Soal	Kartu Jawaban
 <p>Aku merupakan gelombang pada slinki seperti gambar diatas. Gelombang apakah aku?</p>	<p>GELOMBANG</p> <p>LONGITUDINAL</p>
 <p>Jika kamu berteriak di sebuah bioskop, maka suara teriakanmu akan terdengar berulang-ulang. Mengapa itu terjadi?</p>	<p>PEMANTULAN</p> <p>GELOMBANG</p>

Kartu Soal	Kartu Jawaban
<div data-bbox="397 398 724 533" data-label="Image"> </div> <p data-bbox="416 562 703 685">Aku merupakan satuan frekuensi yang berlaku untuk getaran dan gelombang. Apakah aku?</p>	<div data-bbox="975 539 1241 595" data-label="Text"> <p>HERTZ</p> </div>
<div data-bbox="421 927 700 1061" data-label="Figure"> </div> <p data-bbox="400 1099 724 1263">Kamu perhatikan gambar di atas! Coba tolong bantu q, berapa periode gelombangku ku?</p>	<div data-bbox="1086 987 1129 1048" data-label="Text"> <p>2</p> </div> <div data-bbox="979 1137 1241 1205" data-label="Text"> <p>SEKON</p> </div>

Kartu Soal	Kartu Jawaban
 <p>Aku merupakan bagian organ telinga yang bergetar saat adanya getaran masuk ke telinga. Siapakah aku?</p>	<p>GENDANG</p> <p>TELINGA</p>
 <p>Aku termasuk panca indra yang sangat peka dengan getaran bunyi & suara. Siapakah aku?</p>	<p>TELINGA</p>

Kartu Soal	Kartu Jawaban
 <p>Setelah telinga tengah menerima gelombang suara kemudian menggetarkan gendang telinga. Getaran ini kemudian bergerak melalui tiga tulang di dalam telinga tengah, secara berurutan. Tulang apa sajakah aku?</p>	<p>Tulang Martil</p> <p>Tulang Landasan</p> <p>Tulang Sanggurdi</p>
 <p>Aku merupakan organ dari salah satu bagian telinga, apabila aku terkena kapasitas suara yang terlalu kuat dan terkena benda yang tajam maka aku akan pecah. Organ apakah aku?</p>	<p>GENDANG TELINGA</p>

Kartu Soal	Kartu Jawaban
 <p data-bbox="395 488 719 658">Aku adalah suatu atom atau kumpulan atom yang bermuatan listrik. Siapakah aku?</p>	<p data-bbox="1027 421 1193 533">ION</p>
 <p data-bbox="405 1070 719 1240">Aku termasuk ion yang bermuatan POSITIF. Ayo tebak, siapa aku?</p>	<p data-bbox="928 1122 1262 1196">KATION</p>

Kartu Soal	Kartu Jawaban
 <p>Aku cairan yang memiliki ion natrium (Na^+) sangat rendah, tetapi memiliki kandungan kation kalium (K^+) jauh lebih tinggi. Siapakah aku?</p>	<p>ENDOLIMFE</p>
 <p>Aku cairan yang memiliki ion natrium (Na^+) yang sangat tinggi, dan aku terdapat di labirin. Siapakah aku?</p>	<p>PERILIMFE</p>