

ULANGAN HARIAN
MAN YOGYAKARTA III
TAHUN PELAJARAN 2014/2015

Mata Pelajaran : Prakarya dan Kewirausahaan Kerajinan Tekstil

Kelas/Semester : XII/I

Waktu : 45 menit

A. Pilihlah jawaban di bawah ini yang paling benar!

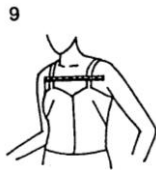
1. Pernyataan dibawah ini manakah yang termasuk penerapan prosedur keselamatan kerja pada saat praktek pembuatan gamis koko....
 - a. Menggunakan celemek pada saat menjahit
 - b. Menggunakan headset saat bekerja
 - c. Memakai sepatu hak tinggi
 - d. Memakai accessories dan milineris
 - e. Menggunakan/mengoperasikan handphone**
2. Berikutini yang bukan contoh K3 di lingkungan sekolah...
 - a. Memakai ikat rambut saat menjahit di lab
 - b. Memakai topi/penutup rambut ketika sedang menjahit
 - c. Memakai alas kaki ketika sedang menjahit
 - d. Memakai masker ketika sedang di lab
 - e. Memotong kuku ketika sedang menyulam**
3. Menutup seluruh aurat wanita muslimah dari ujung rambut sampai ujung kaki kecuali telapak tangan dan muka, Tidak membentuk lekuk tubuh, termasuk syarat dari.....
 - a. **Gamis**
 - b. Celana
 - c. blus
 - d. koko
 - e. Rok
4. Bahan apa yang cocok untuk pembuatan busana pesta....

- a. Denim
- b. **Satin**
- c. spandex
- d. blaco
- e. tile

5. Yang dimaksud dari **siluet** adalah.....

- a. Mode dari busana
- b. **Garis luar busana**
- c. Aksesoris busana
- d. Pemilihan warna dari busana
- e. Bahan busana

6. Gambar dibawah ini adalah cara mengukur

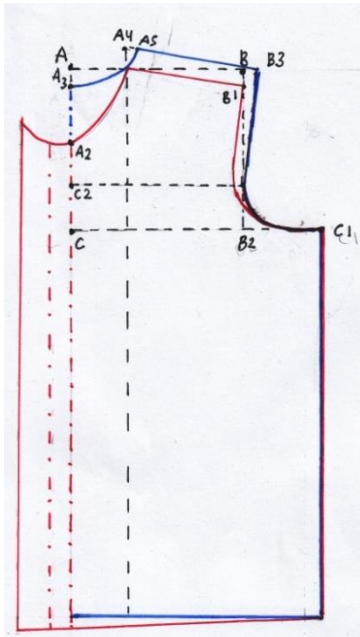


- a. Lebar bahu
- b. **Lebar muka**
- c. Lingkar badan
- d. Jarak dadak
- e. Lingkar Kerung Lengan

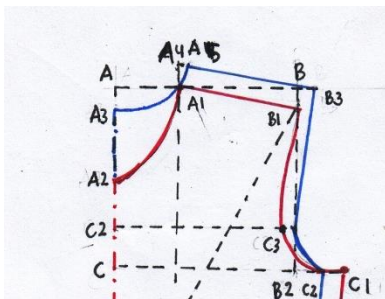
7. Bagaimana cara mengukur lingkar kerung lengan.....

- a. Diukur dari puncak lengan terus sampai melampaui tulang pergelangan tangan
- b. Tangan mengepal kemudian diukur
- c. **Diukur sekeliling lubang lengan, pas dahulu kemudian ditambah 4 cm**
- d. Diukur pada pertengahan jarak bahu terendah dan ketiak dari batas lengan yang kanan sampai batas lengan yang kiri
- e. Diukur sekeliling badan atas yang terbesar, Diukur pas dahulu, kemudian ditambah 10 cm.

8. Bagaimana rumus pembuatan pola C2



- $\frac{1}{2}$ dari A2
 - Lingkar Kerung Lengan dikurangi 6 dibagi 2 dikurangi 2,5 cm
 - $\frac{1}{4}$ Lingkar badan + 1 cm
 - $\frac{1}{2}$ Lebar Muka
 - $\frac{1}{2}$ Lebar bahu
9. Bagaimana rumus pembuatan pola dari A-B.....



- $\frac{1}{2}$ dari A2
 - Lingkar Kerung Lengan dikurangi 6 dibagi 2 dikurangi 2,5 cm
 - Lingkar badan + 1 cm
 - $\frac{1}{2}$ Lebar Muka
 - $\frac{1}{2}$ lebar bahu
10. Warna apa yang digunakan untuk member tanda pola bagian depan dan belakang
- Merah untuk depan, hijau untuk belakang.

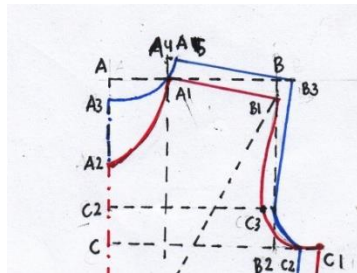
- b. Biru untuk depan, merah untuk belakang.
- c. Merah untuk depan, biru untuk belakang.
- d. Hijau untuk depan, merah untuk belakang.
- e. Kuning untuk depan, Biru untuk belakang.

11. Bagaimana cara mengukur gambar di bawah ini



- a. **Diukur sekeliling badan atas yang terbesar, Diukur pas dahulu, kemudian ditambah 10 cm.**
- b. Diukur sekeliling pinggang, pas dahulu, kemudian ditambah 5 cm
- c. Diukur dari pinggang sampai panggul.
- d. Diukur sekeliling badan bawah yang terbesar, diukur pas dahulu kemudian ditambah 10 cm
- e. **Diukur dari bahu terendah dari kanan sampai bahu terendah kiri.**

12. Bagaimana rumus pembuatan pola dari C ke C1.....

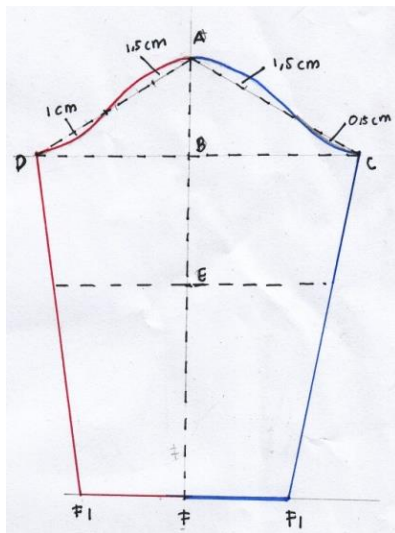


- a. $\frac{1}{2}$ dari A2
- b. Lingkaran Kerung Lengan dikurangi 6 dibagi 2 dikurangi 2,5 cm
- c. **$\frac{1}{4}$ Lingkar badan + 1 cm**
- d. $\frac{1}{2}$ Lebar Muka
- e. $\frac{1}{2}$ Lebar Bahu

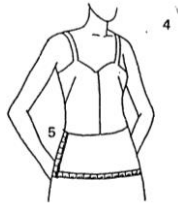
13. Bagaimana mengukur lebar bahu....

- a. **Diukur dari bahu terendah dari kanan sampai bahu terendah kiri.**
- b. Diukur pada 5 cm dibawah lekuk leher atau pertengahan jarak bahu terendah dan ketiak dari batas lengan yang kanan sampai batas lengan yang kiri.

- c. Diukur dari bawah pinggang sampai dibawah panggul.
 - d. Diukur sekeliling pinggang, pas dahulu, kemudian ditambah 10 cm.
 - e. Diukur sekeliling badan atas yang terbesar, Diukur pas dahulu, kemudian ditambah 10 cm.
14. Diukur sekeliling badan bawah yang terbesar, diukur pas dahulu kemudian ditambah 10 cm, merupakan cara pengambilan ukuran dari.....
- a. Lingkar badan
 - b. Lingkar pinggang
 - c. Lebar bahu
 - d. Lebar punggung
 - e. **Lingkar panggul**
15. Bagaimana rumus pembuatan pola dari A5 - B3.....

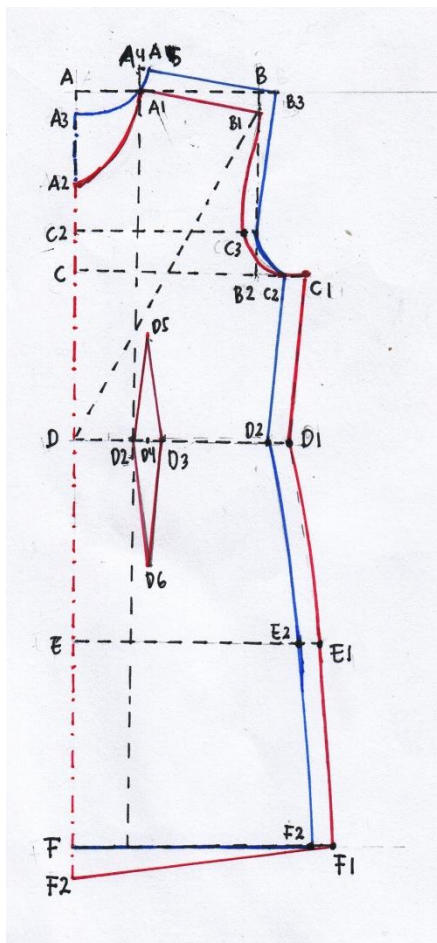


- a. Tinggi puncak
 - b. **Panjang Lengan**
 - c. $\frac{1}{2}$ lingkaran kerung lengan
 - d. Panjang siku
 - e. $\frac{1}{2}$ pergelangan tangan
16. Gambar dibawah ini adalah cara mengukur.....



- a. Lingkar panggul
- b. Tinggi dada
- c. Tinggi panggul dan lingkar pinggang
- d. Lingkar badan
- e. Lingkar pinggang

17. Bagaimana rumus pembuatan pola dari E-E1



- a. $\frac{1}{4}$ lingkaran pinggang
- b. $\frac{1}{2}$ jarak dada
- c. $\frac{1}{4}$ lingkaran badan + 1
- d. $\frac{1}{4}$ lingkaran pinggang + 3 (kup) + 1 cm
- e. $\frac{1}{4}$ lingkaran panggul + 1**

18. Dalam pembuatan pola untuk kelonggaran busana, lingkaran panggul perempuan ditambah berapa centimeter?

- a. 4 cm
- b. **10 cm**
- c. 8 cm
- d. 5 cm
- e. 16 cm

19. Gambar dibawah ini merupakan lengan....



- a. Lengan tulip
- b. Lengan licin
- c. lengan raglan
- d. lengan setali**
- e. lengan kimono

20. Gambar dibawah ini merupakan kerah.....



- a. Kerah setali
- b. Kerah rebah
- c. kerah tegak
- d. kerah kemeja
- e. kerah cina/sanghai

B. Jawablah pertanyaan di bawah ini dengan tepat dan jelas!

1. Sebutkan bagian-bagian busana beserta pengertiannya!

2. Sebutkan yang harus diperhatikan pada saat praktik!
3. Jelaskan cara pengukuran berikut :
 - a. Lingkar pergelangan lengan.
 - b. Uji kontrol.
 - c. Panjang gamis
 - d. Panjang koko
4. Gambarlah macam-macam garis leher berserta pengertiannya minimal 4!
5. Analisislah desain Gamis/Koko!
 - a. Desain Gamis
 1.
 2.
 - b. Desain Koko
 1.
 2.

Jawaban

A. Essay

1. Bagian-bagian busana

- a. Garis leher merupakan bentuk busana yang terletak disekitar leher
- b. Kerah adalah tambahan potongan kain yang digunakan untuk menyelesaikan garis leher
- c. Lengan adalah bagian busana yang menutupi semua atau sebagian lengan
- d. Manset merupakan penyelesaian akhir dari ujung lengan dengan menggunakan bahan atau kain.
- e. Saku biasanya disebut sebagai kantong kecil rata yang dijahitkan pada busana
- f. Belahan adalah pengikat dua bagian busana menjadi satu untuk mengikat busana tersebut menggunakan kancing hias, kancing tekan, kancing kait, resleting, perekat, sengkeli, gasper.

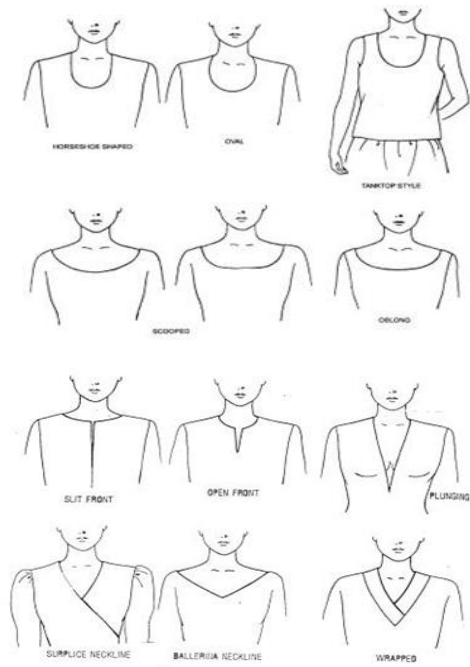
2. Yang Perlu diperhatikan pada saat menjahit

- a. Memakai alas kaki ketika menjahit dengan mesin dinamo
- b. Memakai baju kerja/ celemek agar baju tidak kotor
- c. Jika memakai jilbab yang diikat agar tidak mengganggu ketika proses menjahit
- d. Menekan tombol off ketika akan jeda/ istirahat.
- e. Konsentrasi

3. Suatu desain yang baik harus menghasilkan :

- Bentuk yang bagus/indah
- Warna menarik
- Berfungsi
- Bisa dipakai atau diterima oleh banyak orang
- Kuat/tahan lama
- Nyaman dikenakan

4. Macam-macam garis leher



5. Menyesuaikan